

高二年级 历史试卷

命题人:宁华


一、单选题(本大题共 25 小题,共 50 分)

1. 新航路的开辟引发了一场“商业革命”,下列现象不属于欧洲“商业革命”范畴的是()
A. 欧洲与其他地区间商品交流加强 B. 新兴资产阶级因物价上涨而谋利
C. 欧洲贸易中心发生转移 D. 出现一批特权贸易公司
2. 斯塔夫里阿诺斯在《全球通史》中说:“那时的西欧是无可匹敌的,它拥有向外猛冲的推动力——宗教动力、思想骚动、经济活力、技术进步和有效地动员人力物力的民族君主国。”材料指出了()
A. 新航路开辟的原因和条件 B. 中国四大发明的历史影响
C. “商业革命”出现的原因 D. 殖民扩张的客观作用
3. 下表反映了 1500-1800 年欧洲部分国家船只抵达亚洲的数量变化(单位:艘)。这一变化反映出()

项目	1500-1599 年	1600-1700 年	1701-1800 年
葡萄牙	705	371	196
荷兰	65	1 770	2950
英格兰	—	811	1865
法国	—	155	1300
其他	—	54	350
合计	770	3161	6661

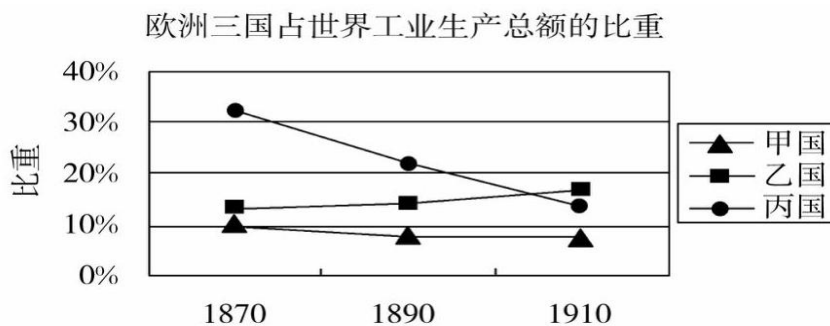
- A. 亚洲成为欧洲争夺的重心 B. 工业革命完成对市场需求
C. 海上殖民霸权转移的趋势 D. 欧洲在亚洲赚取大量金银
4. 有学者指出,被认为近代落后的地区并不是因为在开发上落后而没有得到发展,而是在以欧洲为中心的资本主义确立的过程中遭遇了低开发。也就是说,这些地区被强制性地让自己原本的社会形式变成为适应资本主义的形式。据此可知,近代欧洲殖民者()
A. 对外输出本国落后的生产方式 B. 客观上推动了落后地区社会发展
C. 在落后地区强制推行资本主义 D. 将亚非拉纳入本国经济发展轨道

5. 一位哥伦比亚学者在“纪念美洲发现-- 两个世界文明汇合 500 周年国际学术讨论会”上说,“黄金和白银的作用只是使两个大陆之间的距离更加遥远了”。由此可知()
- A. 该学者关注殖民掠夺的后果 B. “两个大陆”指的是美洲和非洲
- C. 黄金和白银阻碍了世界市场的形成
- D. 该会议讨论的是英国人登陆美洲的意义
6. “英国是最先发生工业革命的国家……再不需要把黑人当作商品从非洲运走,而要把他们当做劳动力留在非洲来生产原料,并为资本主义国家准备市场。”上述核心观点是()
- A. 英国废除了奴隶贸易 B. 非洲开展的工业革命已经进行
- C. 奴隶贸易不符合资本主义发展需要 D. 非洲成为了新的市场
7. 下图分别是 1784 年瓦特改良的蒸汽机和 1870 年格拉姆制造的电动机,它们分别代表了当时最先进的科技成果,关于这两项科技成果的共同点表述正确的()



- A. 使重工业在工业中的比重中占据主导地位
- B. 都因科学技术取得了重大突破而发明
- C. 都促使了应用该技术的国家调整生产关系
- D. 都产生于当时最发达的资本主义国家
8. 在第二次工业革命中,一些超大企业在设立自己的科研机构和信息网络的同时,还派出大量人员收集信息和推销产品,使生产与市场需求配合更密切。由此可以说明垄断组织()
- A. 推动了现代管理学的诞生 B. 使企业生产的计划性增强
- C. 是生产力发展的必然结果 D. 克服了自由放任政策弊端
9. “新能源被开发出来,钢——新工业时代生产的关键——的生产得到飞跃发展。”下列对“新工业时代”表述不正确的是()
- A. 电信工具的创新加强了世界各地的联系
- B. 商品输出成为列强侵略的主要方式 C. 资本主义世界市场最终形成
- D. 第一次在世界范围内形成了劳动分工的基本格局

10. 观察下面图表,其中乙国是()



- A. 英国 B. 法国 C. 俄国 D. 德国

11. 著名史学家陈旭麓认为:洋务运动迈出了中国近代化的第一步。主要是由于()

- A. 首次触及并局部改变了中国的封建政治体制
 B. 建立了中国第一支近代化的海军
 C. 引进了西方一些近代科学技术,创办了一批近代企业
 D. 派遣了中国近代第一批留学生,培养了一批科技人才

12. 19世纪70年代,清政府先后派遣4批幼童共120人赴美留学。下表是对他们归国后就业情况的不完全统计。该现象()


从事行业	外交(包括海关)	海军、船业	矿务	电报	铁路	商业	医业	教育
人数	32	16	8	18	16	7	5	4

- A. 满足了社会发展的需求 B. 打破了西方技术垄断
 C. 导致民族资本主义产生 D. 有助于近代化的发展

13. 鸦片战争后,买办开始形成一个职业集团,势力愈益壮大。其中一些人竭力鼓吹以商为国本,使经商成为时髦。他们公开主张“士商农工”,将自己放在第二位,但实质上他们早已自认为是时代的中心而雄视天下了。由此可知,鸦片战争后()

- A. 政府经济政策发生变化 B. 经济转型的社会基础扩大
 C. 封建等级观念根深蒂固 D. 中国被迫卷入了世界市场

14. 如图是中国近现代四种经济形式的发展走势示意图,其中3所代表的经济形式是()



- A. 外国资本主义企业 B. 洋务企业
 C. 民族资本主义企业 D. 官僚资本主义企业

15. 郑观应在《盛世危言》中说：“洋布、洋纱、洋花边、洋袜、洋巾入中国，而女红失业；煤油、洋烛、洋电灯入中国，而东南数省之柏树皆弃为不材。”该材料从本质上表明()

- A. 商品输出是列强侵华的主要方式 B. 列强侵华客观上促进了中国的近代化
C. 列强侵略导致自然经济开始解体 D. 西方侵略造成中国社会矛盾日趋激化

16. 下表为《1913-1948年中国产业资本属性结构状况表（部分）》（单位：万元）

	1911/1914	1920	增长%	1936	增长%	1947/1948	增长%
外国资本	102125	133000	4. 50	571758	9. 54	73414	-16. 35
国家资本	47807	66952	3. 81	222454	7. 79	420079	6. 72
私人资本	28741	57977	10. 54	204844	8. 21	161499	-2. 05
合计	178673	257929	5. 16	999056	8. 83	654992	-3. 61

对表中数据分析正确的是()

- A. 私人资本的发展状况和政府的政策密切相关
B. 外国资本在中国产业资本中始终占主导地位
C. 国家资本的发展推动了民族资本主义的发展
D. 不同资本的发展变化反映了社会性质的变迁

17. 20世纪某个时期,中国的工业呈现出以下发展态势:民族工业受到官僚资本的摧残挤压,再加上政府不断增捐加税,通货急剧膨胀,原料昂贵而产品滞销,民族工业陷入绝境,纷纷倒闭。该时期最可能是()

- A. 1895-1911年 B. 1912-1919年 C. 1937-1945年 D. 1946-1949年

18. 一直到1952年,河北定县都没有一台大型农机具。1955年,定县农民开始使用拖拉机耕地,1958年又开始使用柴油机和电动机灌溉农田。这一变化的原因是

- A. 农业生产技术的进步 B. 国家以农业为经济建设中心
C. 农村生产关系的变革 D. 社会主义工业化基本实现

19. 如果为下列图片拟定一个学习主题,最恰当的是()



上海庆祝全行业公私合营 第一批解放汽车出厂 大炼钢铁的土高炉

- A. 社会主义建设道路的探索 B. “一五”计划的辉煌成就
C. 社会主义工业化的起步 D. 社会主义过渡时期的成就

20. 1961年，中共中央农村工作部的一份报告指出：现在部分干部和农民对集体生产信心不足，以致发展到变相恢复单干，有的地方出现了“父子队”“兄弟队”式家庭作业。这则材料为例证，可用于说明()
- A. 当时土地所有制发生改变 B. 农业合作化运动的历史背景
- C. 当时国民经济调整成效显著 D. 家庭联产承包责任制的起源

21. 表为无锡一市民的家庭账册。这反映出()

时间	家庭总收入(元)	家庭支出(元)	大饼油条价格(元)
1979年	1568.3	1003.97	0.25
2000年	30595.12	13705.18	0.5
2008年	65872.45	39564.72	3
2018年	112358.68	78546.23	6

- A. 人们日常消费开支大幅增加 B. 粮食紧缺导致物价不断上涨
- C. 家庭支出占比呈现持续增长 D. 改革开放提高人民生活水平
22. 1985年初，中共中央、国务院文件要求：改革农产品统购派购制度，以合同订购和市场收购取代统购派购；积极发展多种经营；开辟多种渠道集资建路，发展运输；提高资金的融通效益；进一步扩大城乡经济交流；发展对外经济、技术交流等。这一文件()
- A. 初步打破了人民公社体制 B. 有利于农村经济的市场化
- C. 在农村确立市场经济体制 D. 促进了农业生产的现代化

23. 新中国成立以来相当长的一个时期内，人们要凭粮票才能购买到粮食。1990年，广东省宣布终止粮票的流通，1993年全国终止粮票流通。这反映了()
- A. 新中国成立以来我国粮食供应充足
- B. 广东省农村经济体制改革从1990年开始
- C. 我国由计划经济体制向市场经济体制转变
- D. 广东省率先进行农村经济体制改革

24. “点一线一面”，我国最终形成全方位、立体化的开放格局。以下区域开放的先后顺序是()

- ①沿海开放城市 ②经济特区 ③沿海经济开放区 ④内地 ⑤上海浦东
- A. ③②①⑤④ B. ②①③④⑤ C. ②①④③⑤ D. ①②③④⑤

25. 中国近现代史上，有两次对外开放。一次是鸦片战争之后的开放，一次是1979年以后的开放。两次对外开放的共同之处是()
- A. 都是中国积极、主动的融入世界的行为
- B. 都有由东南沿海向内陆地区发展的趋势

C. 都极大地推动了中国社会政治、经济的进步

D. 都主要体现世界经济发展对中国的要求

二、材料解析题（本大题共3小题，共50分）

26. 新航路开辟之后,出现了物种在全球范围内的交流,被称为“哥伦布大交换”,其影响深远。阅读材料,完成下列要求。(16分)

材料一 在美洲被征服的过程中,大量印第安人死于屠杀和折磨。更悲惨的是,新大陆没有天花、白喉等疾病,印第安人对这些疫病毫无免疫力,欧洲人带来的这些疾病造成他们死亡的数量可能更大,有的村子因此整个灭绝。据估计原来有1000万到2500万人口的新西班牙(阿兹特克帝国),到17世纪初只剩下不到200万人,同时期印加人从约700万减少到只有约50万……随着印第安人大量死亡,劳动力来源日趋紧张,于是殖民者又从非洲运来黑人,迫使他们在种植园里劳动。

——王加丰《世界文化史导论》

材料二 (欧洲人)不但自己大发其财,同时一手塑造了整个新世界的风貌与历史……看不见的病毒以外,另一批因哥伦布航行引发的生物大交换,是由肉眼可见的生命形式组成,从南瓜到野水牛均是。这个大交换的结果——从人类观点视之——也是正负参半……时至今日,两半球之间的动植物交换并未停止,依然在进行。

——[美]阿尔弗雷德·克罗斯比《哥伦布大交换》

(1) 根据材料一,指出欧洲征服美洲的后果。(4分)结合所学知识,说明欧洲征服美洲的经济动因。(2分)

(2)根据材料二,概括“哥伦布大交换”的特点。(6分)

(3) 根据材料并结合所学知识,简析“哥伦布大交换”的积极影响。(4分)

27. 阅读中、英两国近代工业化比较表,回答下列问题:(14分)

	中国	英国
领导力量	地主阶级中的洋务派领导的，官僚买办资产阶级在其中的作用并不大，民族资产阶级更没有能掌握其真正的领导权。	资产阶级是一直在扮演着主角，只不过开始是商业资产阶级，后来是工业资产阶级再后来是金融寡头在推动工业化的发展。
资金来源	多是政府出资，然有心则后力不足；而民族资本主义企业是在原有的资本主义萌芽早已被外国资本主义侵略所截断的情况下出现的，没有经历过资本的原始积累阶段，资金更是严重不足。	伴随新航路开辟开始的殖民扩张与掠夺，使西方工业化的资金来源有了充足的资本原始积累阶段
工业化次序	从发展重工业开始，用轻工业来辅助；而民族工业则偏于轻工业，重工业几乎无力触及。因此，近代中国工业结构极不合理。	先从轻工业开始，然后再发展到重工业，工业结构合理有序。
影响因素	鸦片战争后，中国的工业化进程又受到外国资本主义、本国封建主义和官僚资本主义的阻碍和压榨，进程曲折而缓慢。	曾遭受过来自封建专制势力的阻碍，但是重商主义的政策依然给了其发展的空间；随着资产阶级代议制的确立和工业革命的开展，西方的工业化进程得到大大加快

(1) 根据材料并结合所学知识，指出中、英两国工业化起步标志性事件，并分别指出其起步的政治背景。(4分)

(2) 根据材料从资金来源、工业化次序，分别归纳两国的差异。(4分)

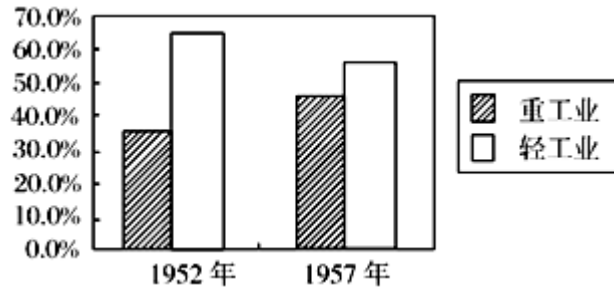
(3) 根据材料及所学知识，总结影响工业化的主要因素。并谈谈你对工业化的认识。(6分)

28. 阅读材料，完成下列要求。(20分)

材料一实现国家工业化，是国家独立和富强的必然要求和必要条件，也是一百多年来中国人民的夙愿。旧中国的工业在整个国民经济中只占很小的比重，1949年现代工业产值占工农业总产值的17%，而且发展极不平衡，仅有的一点工业基本上集中在沿海城市和地区。……到1952年工业已经恢复并超过了历史上的最高水平，但总的说来，中国还是一个落后的农业国。

——杨先材《中国历史·中华人民共和国卷》

材料二如图轻重工业在工业总产值中比重表



材料三邓小平曾说：“过去搞平均主义，吃‘大锅饭’，实际上是共同落后，共同贫穷，”必须打破平均主义，允许一部分人、一部分地区通过诚实劳动、合法经营比较快地先富起来，这是“加速发展、达到共同富裕的捷径。”

-----《邓小平与当代中国思想解放》

材料四“那时候我去广西火车站坐车，车站上就挂着大幅标语，写着‘坚决抵制来自广东的资本主义倾向’，郭华雄回忆说。当时很多人认为搞改革开放是资本主义的东西，有很多名词，如“苏修”“资本主义搞复辟”等。一开始，特区的建设只是作为一个试点，当时珠海景山路的左边是特区，右边就不是了，它的区域最开始只有 8 平方公里，后来扩大到 10 平方公里，最后才慢慢扩展到整个珠海。”

-----摘编自《“珠海经济特区好”》

(1) 依据材料一、二，分析建国初期我国工业结构发生了怎样的变化？（2分）结合所学知识分析优先发展重工业的主要原因是什么？（4分）

(2) 根据材料结合所学知识说明材料三中“过去搞平均主义，吃‘大锅饭’”在农村中的表现是什么？（2分）根据材料三和材料四指出十一届三中全会后社会主义建设方针有什么转变？从中你有何启示？（4分）

(3) 材料四中反映了珠海经济特区初创时期有什么问题？（4分）经济特区的创办有何意义？（4分）